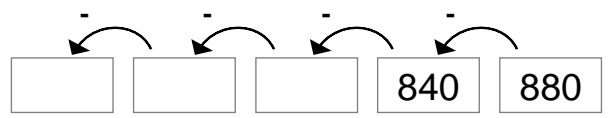
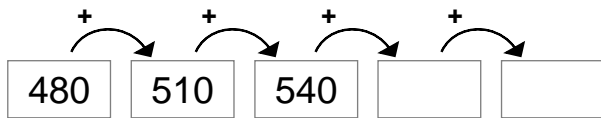
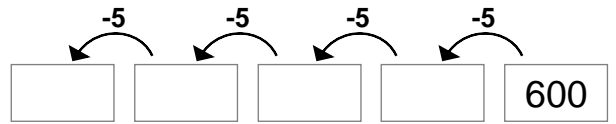
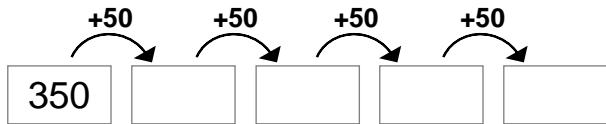
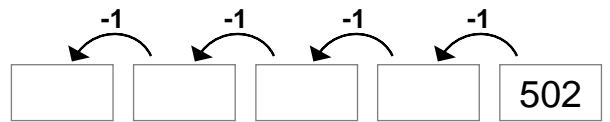
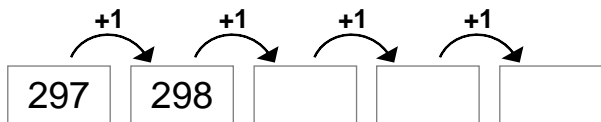


Zahlenfolgen

Setze die Zahlenfolgen fort.



200	202	204							
-----	-----	-----	--	--	--	--	--	--	--

							562	565	568
--	--	--	--	--	--	--	-----	-----	-----

120	220	320							
-----	-----	-----	--	--	--	--	--	--	--

20		60							200
----	--	----	--	--	--	--	--	--	-----

0	500	1 000							
---	-----	-------	--	--	--	--	--	--	--

							1 201	1 301	
--	--	--	--	--	--	--	-------	-------	--

Erkennst du auch, wie diese Zahlenfolgen aufgebaut sind?

20	40	80	160						
----	----	----	-----	--	--	--	--	--	--

					4 000	8 000	16 000		
--	--	--	--	--	-------	-------	--------	--	--

Überlege dir eigene Zahlenfolgen.